

Czwartek

16.04.20r.

Edu. matematyczna
Cele
Uczeń:
- dodaje z przekroczeniem progu dziesiętkowego

Edu. polonistyczna
Cele
Uczeń:
- utrwała zasadę wymiany ó na o
- czyta ze zrozumieniem
- szereguje wyrazy

Edu. techniczna
Cele
Uczeń:
- postępuje zgodnie z instrukcją

Edu. muzyczna
Cele
Uczeń:
- poznaje słowa i melodie niosenki „Kocham świat”

Edukacja polonistyczna

- Praca samodzielna na ocenę.
Odnajdź w teczce artysty kartkówkę 4, z edu. polonistycznej.
Możesz poprosić rodzica o przeczytanie poleceń.
Rozwiąż zadania i prześlij zdjęcie.
Licząc na szczerość rodziców i samodzielnie rozwiązane zadania przez dzieci.
Powodzenia !

Imię i nazwisko _____ klasa _____

Kartkówka 4 **Grupa A**

1. Narysuj w ramce ilustrację pasującą do tekstu.
Na biurku stoi komputer.
Obok komputera stoi lampa.
Nad biurkiem mamy obraz.

2. Połącz litery w wyrazy i ulóż z nich zdanie. Zapisz je.
T o b i u r k o W a n d y .

3. Podkreśl wyraz rymujący się z pierwszym wyrazem.
guma plama puma brama
sowa prawa krowa soda
wanna wata wada panna

4. Napisz wyrazy w kolejności od najkrótszego do najdłuższego.
telewizor wagon zegarek gawron

- Ortografia – powtórzenie wiadomości
Zapisz w zeszycie z j. polskiego temat, przepisz wyrazy i połącz je ze sobą.
Podkreśl też wymienione litery.

Lekcja

Temat: Ortografia, ó wymienne na o.

lód bo	osiem
sól bo	soli
stół bo	lody
dół bo	moje
wór bo	stołek
mróz bo	worek
mój bo	dołek
ósemka bo	mrozy

Przypomnienie

Ó zamknięte piszemy gdy w wyrazach

pokrewnych wymienia się na: o,e,a.


Dziś utrwalamy wymianę ó na o.

Edukacja matematyczna

1. Powtórz dodawanie z przekroczeniem progu dziesiątkowego.

$7 + 5$

Ile brakuje od 7 do 10? Policz na palcach.




8 9 10

Od 7 do 10 brakuje 3.

$7 + 5 =$

3

Ile brakuje od 3 do 5? Policz na palcach.



4 5

Od 3 do 5 brakuje 2.

10 { $7 + 5 = 10 + 2 = 12$

+ $3 \quad 2$

2. Przepisz poniższe przykłady do zeszytu. Jeśli udało Ci się wykonać zadania samodzielnie, narysuj uśmiechniętą buźkę ☺ lub smutną ☹ gdy zadania są dla Ciebie jeszcze trudne.

Prześlij zdjęcie.

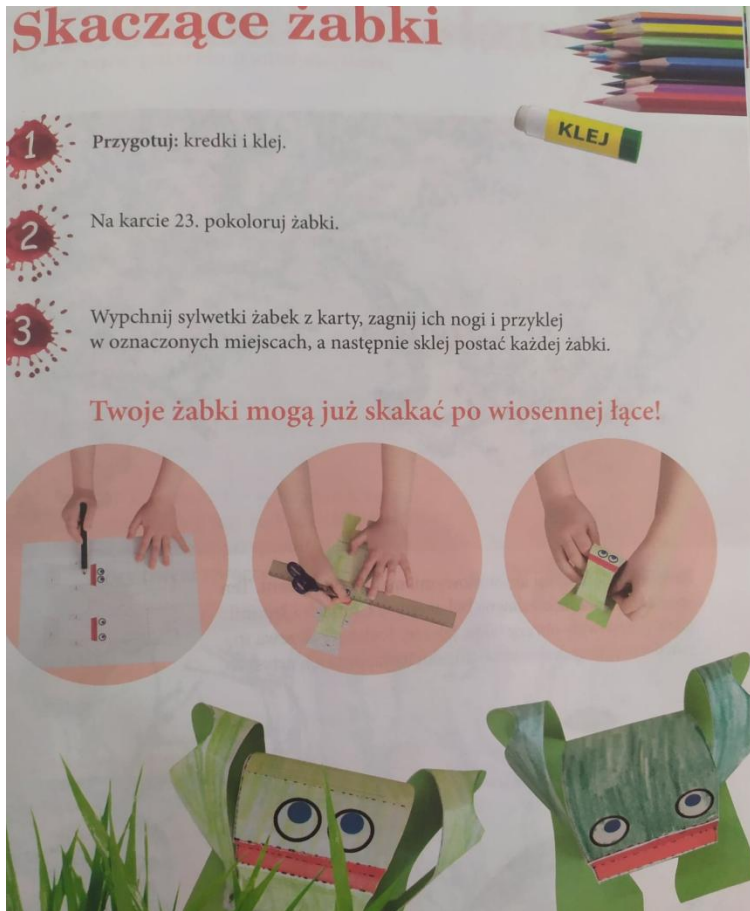
$$\begin{array}{r} \boxed{6} + \boxed{9} = \boxed{} = \boxed{} \\ \swarrow \searrow \\ \boxed{} \quad \boxed{} \end{array}$$

$$\begin{array}{r} \boxed{9} + \boxed{5} = \boxed{} = \boxed{} \\ \swarrow \searrow \\ \boxed{} \quad \boxed{} \end{array}$$

$$\begin{array}{r} \boxed{7} + \boxed{8} = \boxed{} = \boxed{} \\ \swarrow \searrow \\ \boxed{} \quad \boxed{} \end{array}$$

Edukacja techniczna

1. Wykonaj skaczącą żabę, która znajduje się w teczce artysty. Na str. 41 znajdziesz instrukcję. Przyślij zdjęcie.



Edukacja muzyczna

1. Posłuchaj piosenki „Kocham świat”, której słowa znajdują się w książce od muzyki na str. 60.

<https://www.youtube.com/watch?v=9H5WrS3o9Ac>