




Temat: Dzień odkrywców. Książka moim przyjacielem.

Cele:

- czytasz i piszesz zdania z zrozumieniem
- rozwiązujesz różne zadania matematyczne
- estetycznie wykonujesz zakładkę do książki

Edukacja matematyczna

1. Sprawdzian roczny z matematyki. Wypełniony sprawdzian robimy samodzielnie i wysyłamy Pani . Postaram się do następnego poniedziałku poprawić .Poprawiony sprawdzian z oceną proszę wkleić do zeszytu od matematyki

<p>Imię i nazwisko _____</p>	<p>Klasa _____</p>																														
Sprawdzian roczny	Grupa A																														
<p>1. Uzupełnij kolejne numery wagonów wakacyjnego pociągu.</p>																															
	<table border="1" style="border-collapse: collapse;"><tr><td style="width: 20px; height: 20px;"></td></tr><tr><td style="text-align: center;">2 p.</td></tr></table>		2 p.																												
2 p.																															
<p>2. W każdej ramce otocz kółkami tylko dwie liczby, aby po ich dodaniu wynik był równy 18.</p>																															
<table border="1" style="border-collapse: collapse; text-align: center;"><tr><td>2</td><td>6</td><td>7</td><td>8</td><td>11</td><td>13</td><td>15</td></tr><tr><td>1</td><td>4</td><td>5</td><td>8</td><td>12</td><td>14</td><td>16</td></tr><tr><td>4</td><td>5</td><td>6</td><td>10</td><td>12</td><td>15</td><td>17</td></tr><tr><td>2</td><td>5</td><td>6</td><td>9</td><td>11</td><td>16</td><td>18</td></tr></table>	2	6	7	8	11	13	15	1	4	5	8	12	14	16	4	5	6	10	12	15	17	2	5	6	9	11	16	18	<table border="1" style="border-collapse: collapse;"><tr><td style="width: 20px; height: 20px;"></td></tr><tr><td style="text-align: center;">2 p.</td></tr></table>		2 p.
2	6	7	8	11	13	15																									
1	4	5	8	12	14	16																									
4	5	6	10	12	15	17																									
2	5	6	9	11	16	18																									
2 p.																															
<p>3. Wykonaj obliczenia i zapisz wyniki.</p>																															
$4 + 3 =$ <table border="1" style="display: inline-table; border-collapse: collapse;"><tr><td style="width: 15px; height: 15px;"></td><td style="width: 15px; height: 15px;"></td></tr></table> $13 + 6 =$ <table border="1" style="display: inline-table; border-collapse: collapse;"><tr><td style="width: 15px; height: 15px;"></td><td style="width: 15px; height: 15px;"></td></tr></table> $14 + 5 =$ <table border="1" style="display: inline-table; border-collapse: collapse;"><tr><td style="width: 15px; height: 15px;"></td><td style="width: 15px; height: 15px;"></td></tr></table>							<table border="1" style="border-collapse: collapse;"><tr><td style="width: 20px; height: 20px;"></td></tr><tr><td style="text-align: center;">3 p.</td></tr></table>		3 p.																						
3 p.																															
$10 - 6 =$ <table border="1" style="display: inline-table; border-collapse: collapse;"><tr><td style="width: 15px; height: 15px;"></td><td style="width: 15px; height: 15px;"></td></tr></table> $20 - 8 =$ <table border="1" style="display: inline-table; border-collapse: collapse;"><tr><td style="width: 15px; height: 15px;"></td><td style="width: 15px; height: 15px;"></td></tr></table> $17 - 4 =$ <table border="1" style="display: inline-table; border-collapse: collapse;"><tr><td style="width: 15px; height: 15px;"></td><td style="width: 15px; height: 15px;"></td></tr></table>																															
<p>4. Gabrysia miała 10 kolorowych kulek. Zgubiła 3 kulki. Ile kulek jej zostało?</p>																															
<table border="1" style="border-collapse: collapse; text-align: center;"><tr><td style="width: 15px; height: 15px;"></td><td style="width: 15px; height: 15px;"></td><td style="width: 15px; height: 15px;"></td><td style="width: 15px; height: 15px;"></td><td style="width: 15px; height: 15px;"></td><td style="width: 15px; height: 15px;"></td><td style="width: 15px; height: 15px;"></td><td style="width: 15px; height: 15px;"></td><td style="width: 15px; height: 15px;"></td><td style="width: 15px; height: 15px;"></td></tr></table>											<table border="1" style="border-collapse: collapse;"><tr><td style="width: 20px; height: 20px;"></td></tr><tr><td style="text-align: center;">2 p.</td></tr></table>		2 p.																		
2 p.																															
<p>5. Zmierz linijką długość każdej deski i zapisz, ile ma centymetrów.</p>																															
																															
<table border="1" style="display: inline-table; border-collapse: collapse;"><tr><td style="width: 15px; height: 15px;"></td><td style="width: 15px; height: 15px;"></td></tr></table> cm			<table border="1" style="display: inline-table; border-collapse: collapse;"><tr><td style="width: 15px; height: 15px;"></td><td style="width: 15px; height: 15px;"></td></tr></table> cm																												

6. To jest zegar, który pokazuje godzinę odjazdu pociągu z Warszawy do Krakowa.

1 p.



Pociąg dojedzie do Krakowa za cztery godziny. Pokoloruj zegar, który wskazuje godzinę przyjazdu pociągu do Krakowa.

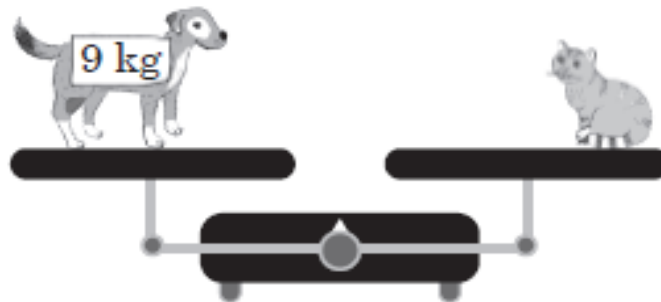


7. Pies Adama waży 9 kg, a jego kot waży o 3 kilogramy mniej. Ile waży kot?

3 p.

Napisz, które zwierzę waży więcej i o ile.

• Jakie odważniki należy dorysować, aby ciężar po obu stronach był taki sam? Narysuj te odważniki i zapisz na nich ich wartość.



Ogólna liczba punktów:

15 p.

Ocena nauczyciela:

Edukacja polonistyczna

1. Dzień odkrywców- str. 64-65; zad.4 proszę zrobić zdjęcie i wysłać. Po koniec następnego tygodnia będzie to chyba piątek będzie sprawdzian roczny z j.polskiego.

Edukacja techniczna

1. Wykonanie zakładki do książki. Proszę rodziców aby przygotowali dzieciom dwa paski kartonu w różnych kolorach. Potrzebny będzie zwykły dziurkacz. Dzieci dziurkują jeden pasek kartonu tak, aby dziurki tworzyły dowolny wzór a następnie skleją ze sobą kartoniki. Przedtem między kartoniki wkładają spleciony w warkoczyk kolorowy sznurek lub wstążkę.