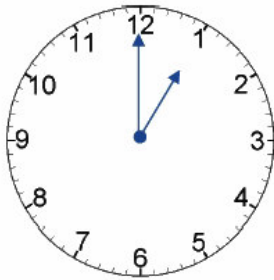
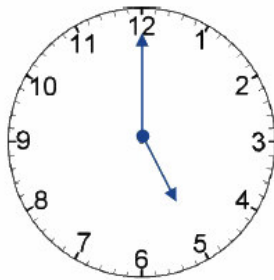
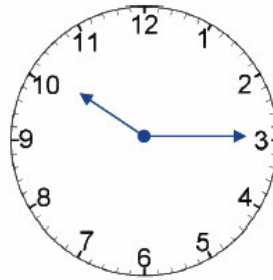
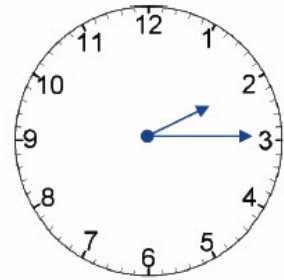


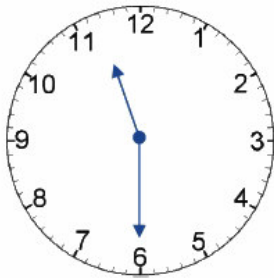
Która godzina jest na zegarach? Wpisz czas przed południem i po południu.

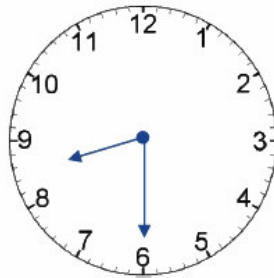


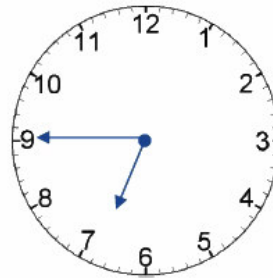


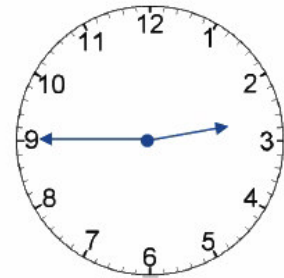












Uzupełnij zdania. Wpisz odpowiednie wyrazy z ramki.

Kwadrans to minut.

Dwa kwadranse to minut, czyli godziny.

Trzy kwadranse to minut.

Cztery kwadranse to minut, czyli

- | |
|--------------------|
| godzina, |
| piętnaście, |
| pół, |
| trzydzieści, |
| czterdzieści pięć, |
| sześćdziesiąt |

Oblicz, ile czasu upływa:

od $12:15$ do $12:55$ godzin minut

od $14:25$ do $15:05$ godzin minut

od $4:35$ do $5:45$ godzin minut

od $6:05$ do $7:20$ godzin minut

od $3:45$ do $4:35$ godzin minut

od $13:50$ do $14:05$ godzin minut

od $9:40$ do $10:30$ godzin minut

od $17:10$ do $19:25$ godzin minut

od $22:55$ do $23:15$ godzin minut

od $20:30$ do $20:50$ godzin minut