

25.03.2020

WIELOKĄTY

Moi drodzy od dzisiaj zaczynamy normalne lekcje. Wiem, że będzie to trudne dla Was, ale również dla mnie. Wierzę jednak, że wspólnie damy radę i zdołamy opanować materiał. Pamiętaj, że nie od razu musisz wszystko rozumieć! Dlatego

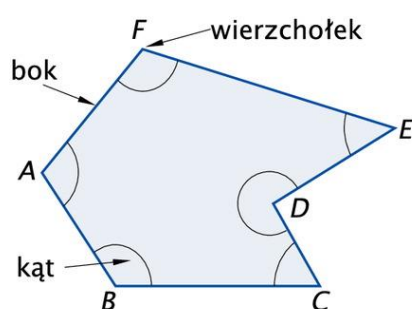
UWAŻNIE CZYTAJ, STARAJ SIĘ ZROZUMIEĆ I ĆWICZ 😊

ĆWICZENIE CZYNI MISTRZA 😊 ZACZYNAMY

- Zapisz datę i temat. Karty możesz wydrukować lub całą notatkę przepisać do zeszytu 😊

Cel lekcji: uczeń potrafi wskazać boki, wierzchołki i kąty wielokąta, oraz potrafi obliczyć jego obwód i na to będziemy zwracać uwagę.

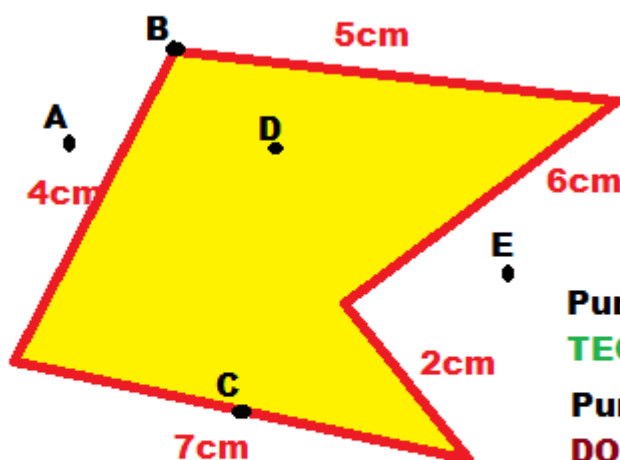
1. Wielokąty



Ćwiczenie A. Ile boków, ile wierzchołków i ile kątów ma wielokąt na rysunku obok?

Każdy wielokąt ma po tyle samo boków, wierzchołków i kątów

2. OBWÓD WIELOKĄTA TO RAMKA WOKÓŁ TEGO WIELOKĄTA LUB PŁOTEK OGRADZAJĄCY NASZE POLE!!!



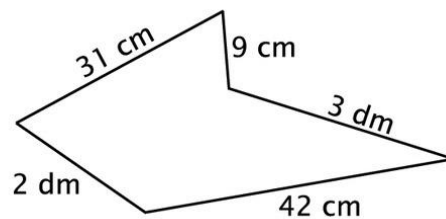
**NA CZERWONO
ZAZNACZYŁAM
OBWÓD TEGO
WIELOKĄTA!!!**

**Punkty B, C, D NALEŻĄ DO
TEGO WIELOKĄTA
Punkty A i E NIE NALEŻĄ
DO TEGO WIELOKĄTA**

$$\text{Obw} = 7\text{cm} + 2\text{cm} + 6\text{cm} + 5\text{cm} + 4\text{cm} = 24\text{cm}$$

Obwód tego wielokąta wynosi 24cm.

Ćwiczenie C. Oblicz obwód pięciokąta, którego rysunek przedstawiono obok.



3. Ćwiczenie 2, 4 i 6 str.53 i 54 z ćwiczeń;)

POWODZENIA☺ DASZ SOBIE RADE!!!

OD DZISIAJ BĘDĘ SPRAWDZAĆ WYRYWKOWO WASZĄ PRACĘ I JUTRO
POPROSZĘ 3 LUB 4 OSOBY O PRZESŁANIE ZDJĘĆ Z ZADANIAMI.