

22.04.20

OBWÓD TRAPEZU

1. Sprawdź, czy potrafisz:

- Trapez to czworokąt, który
- Narysuj trapez i nazwij jego boki.

c) Narysuj trapez równoramienny o ramionach równych 3cm.

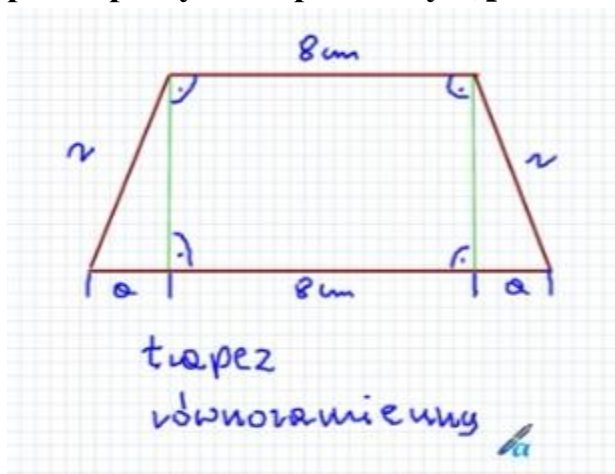
d) Narysuj trapez prostokątny o podstawach 5cm i 3cm.

Dzisiaj mamy się nauczyć obliczania obwodu trapezu, a w szczególności obwodu trapezu równoramiennego i prostokątnego. To musisz umieć.

2. Filmik oglądaj **od 2.25 minuty**☺

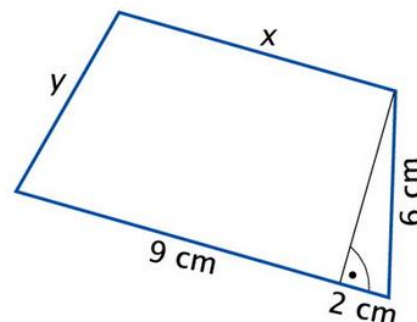
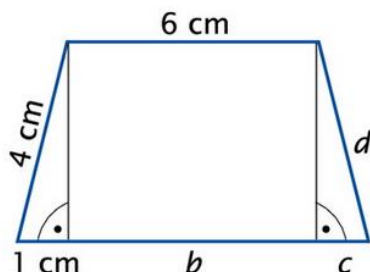
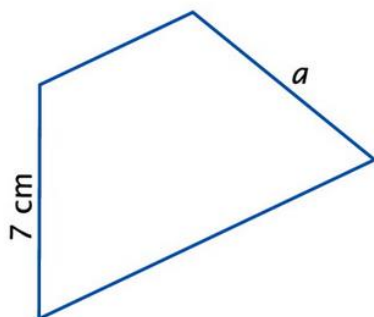
<https://www.youtube.com/watch?v=Jt-VJj7Fi1k>

3. **Trapez równoramienny ma równe ramiona i równe odcinki a** po narysowaniu prostopadłych do podstawy. (patrz na rysunek i zapamiętaj)!!!



W zad. 5 c zastanów się co należy zrobić? Patrz 5b.

5. Narysowane poniżej trapezy są równoramienne. Podaj długości odcinków oznaczonych literami.



4. Ćw. 5, 6, 7 str. 65

5. Dla chętnych ćw. 8 str. 65 i super zagadka 😊

Do super zagadki wykonaj dokładny rysunek i zrób obliczenia. 😊



zagadka

Od trójkąta równobocznego o obwodzie 12 cm odcięto trójkąt równoboczny o obwodzie 6 cm i otrzymano trapez. Jaki obwód ma otrzymany trapez?