

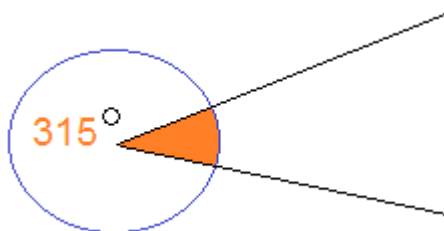
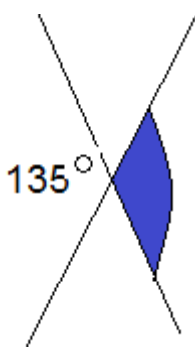
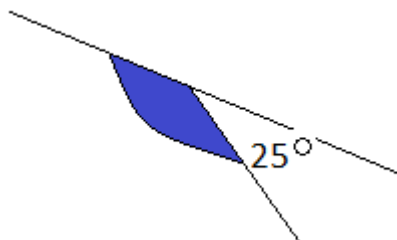
26.03.20

KĄTY PRZYLEGŁE I WIERZCHOŁKOWE

Naszym celem jest doskonalenie umiejętności rozpoznawania i obliczania miar kątów przyległych, wierzchołkowych i powstałych przez dopełnienie do kąta pełnego.

Odpowiedz na pytania?

1. Jakie kąty nazywamy przyległymi i co wiesz o ich sumie?
2. Narysuj dwa kąty wierzchołkowe i powiedz co wiesz i ich miarach.
3. Jeśli nie potrafisz odpowiedzieć na powyższe pytania poszukaj odpowiedzi w notatkach z poprzedniej lekcji.
4. Zapisz datę i temat, a następnie rozwiąż zadania.
5. Oblicz miary zaznaczonych kątów i obok każdego napisz jakie to kąty:



6. Ćwiczenia : ćw. 1 i 2 ze str.52
7. Oceń siebie na ile opanowałeś te umiejętności?