

05.06.20


## SZACOWANIE WYNIKÓW

*Dzisiaj na lekcji nauczymy się podawać wyniki w przybliżeniu, około.*


<https://www.youtube.com/watch?v=Fq4jfKekPB8>

<https://www.youtube.com/watch?v=Wt2pAIg2noI>

Przepisz do zeszytu przykłady z pierwszego filmiku.




0,2kg  
17,94zł/kg

$$0,2 \cdot 17,94 \approx 3,6$$
$$17,94 \approx 18$$
$$0,2 \cdot 18 = 3,6$$


0,4kg  
14,91zł/kg

$$0,4 \cdot 14,91 \approx 6,0$$
$$14,91 \approx 15$$
$$0,4 \cdot 15 = 6,0$$



2,20zł/kg  
2,9kg

$2,20 \approx 2$

$2,20 \cdot 2,9 \approx$

$2,9 \approx 3$

$3 \cdot 2 = 6$

Masa tortu to 4,2 kg.  
Za tort zapłacono 44,94 zł.  
Oszacuj, ile kosztuje 1 kg tortu.

• masa

cena/kg      koszt

• masa



$44,94 \approx 44$

$44,94 : 4,2 \approx 11$

$4,2 \approx 4$

$44 : 4 = 11$

Zad.1 i 3 str. 170

ćw. 1, 2 str. 87

Powodzenia ☺